

Образовательное учреждение Нюксенская СОШКласс 10ШИФР 0-10-18-10Учитель Самвановский Сергей Станиславовичмаксимальное количество набранных баллов: 100**ТЕОРЕТИЧЕСКИЙ ТУР**

Впишите свой код/шифр

0	10	18	10
---	----	----	----


Уважаемый участник Олимпиады!

При выполнении заданий теоретического тура вам предстоит выполнить определенную работу, которую лучше организовать следующим образом:

- не спеша, внимательно прочитайте тестовое задание;
- определите, какой из предложенных к заданию вариантов ответа наиболее верный и полный;
- обведите кружком букву (буквы), соответствующую выбранному вами ответу;
- если вы отвечаете на теоретический вопрос, обдумайте и сформулируйте конкретный ответ только на поставленный вопрос;
- если вы отвечаете на предложенную ситуацию, обдумайте порядок и последовательность действий по предложенной ситуации и впишите ответы в в той последовательности, которую вы определили, при этом ответ должен быть кратким, но содержать необходимую информацию;
- продолжайте таким образом работу до завершения выполнения заданий;
- после выполнения всех предложенных заданий еще раз удостоверьтесь в правильности выбранных вами ответов и решений;

Задание теоретического тура считается выполненным, если Вы вовремя сдаете его членам жюри.

Желаем вам успеха!

Максимальный балл	100	Общий набранный балл		Председатель жюри	 подпись
-------------------	------------	----------------------	--	-------------------	--

**Муниципальный этап Всероссийской олимпиады
школьников по Основам безопасности жизнедеятельности
в 2018-2019 учебном году в Вологодской области
Теоретический тур – 10-11 классы**

1. Письменные задания теоретического тура

Вопрос 1. На улицах и дорогах встречаются перекрестки, где отсутствуют светофоры. В таких случаях часто требуется помощь регулировщика. Ответьте и опишите, какие сигналы регулировщика соответствуют сигналам светофора?

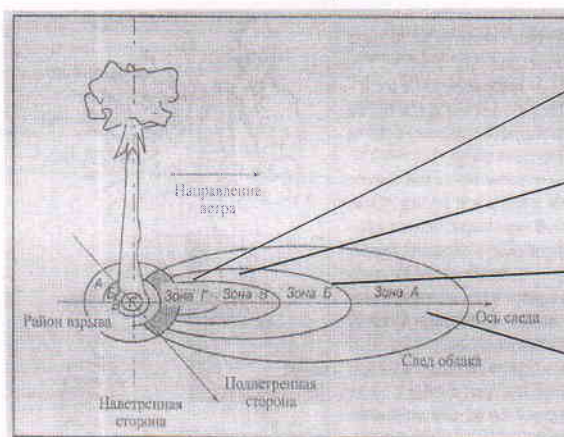
Вариант ответа.

правая рука вверх и левая в сторону - движение прямо и направо
две руки разведены в стороны - движение только прямо

Максимальная оценка – 3 балла; Фактическая оценка –
Подпись члена жюри

Вопрос 2. Посмотрите на схему радиоактивного заражения местности и дайте наименование зонам радиоактивного заражения местности по следу облака.

Ответ:



- ~~Зона Г~~ умеренное заражение
- Зона Б умеренное заражение
- Зона В опасное заражение
- Зона А чрезвычайно - опасное радиоактивное заражение

**Муниципальный этап Всероссийской олимпиады
школьников по Основам безопасности жизнедеятельности
в 2018-2019 учебном году в Вологодской области
Теоретический тур – 10-11 классы**

Максимальная оценка – 4 балла; Фактическая оценка –
Подпись члена жюри:

Вопрос 3. Определите вид боевых токсичных химических веществ, в зависимости от их названия и заполните до конца схему.



Ответ:

<i>Кровяной</i> —	Зарин, заман,	<i>нервнопаралитическая</i>	Иприт
<i>контактный</i> —	Фосген		Синильная кислота, хлорциан
	BZ (Би-зет)	<i>озраченный</i> —	CS (Си-Эс), CR (Си-Ар),





Максимальная оценка – 6 баллов; Фактическая оценка –
Подпись члена жюри:

Вопрос 4. С целью облегчения поиска людей, попавших в опасную ситуацию целесообразно применять Международную кодовую таблицу воздушных сигналов «Земля-Воздух». Её знаки могут быть выложены с помощью подручных средств (снаряжение, одежда, камни, деревья), непосредственно людьми, которые должны лечь на землю, снег, лёд, или вытоптаны на снегу.

Установите соответствие между сигналами и их значениями. Запишите в таблицу выбранные цифры под соответствующими буквами.

Сигнал		Значение	
А		1	Я двигаюсь в этом направлении
Б		2	Всё в порядке

**Муниципальный этап Всероссийской олимпиады
школьников по Основам безопасности жизнедеятельности
в 2018-2019 учебном году в Вологодской области
Теоретический тур – 10-11 классы**

В			3	Требуется карта и компас
Г			4	Разделились на две группы, каждая следует в указанном направлении.
Д			5	Нужен врач – серьёзные телесные повреждения.
Е			6	Нужны медикаменты

Ответ:

2 2 2 2 2 2

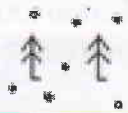


А – 5	Б – 4	В – 2	Г – 1	Д – 3	Е – 6
-------	-------	-------	-------	-------	-------

Максимальная оценка – 12 баллов; Фактическая оценка –





Подпись члена жюри:

15 Вопрос 5. Напишите что обозначают топографические знаки в таблице

Ответ:


Топографический знак	Что он обозначает
	<i>ельный лес</i>
	<i>Каменная лестница</i>
	<i>мост</i>

**Муниципальный этап Всероссийской олимпиады
школьников по Основам безопасности жизнедеятельности
в 2018-2019 учебном году в Вологодской области
Теоретический тур – 10-11 классы**

	<i>равнина</i> —
	<i>место нахождения</i> —
	<i>река.</i> 18
	<i>возвышенность.</i> —

Максимальная оценка – 7 баллов; Фактическая оценка –
Подпись члена жюри:

05 Вопрос 6. Определите воинское звание
Ответ:



1. —
2. —
3. *майор.* —
4. —
5. —
6. *капитан* —


Максимальная оценка – 6 баллов; Фактическая оценка –
Подпись члена жюри:

**Муниципальный этап Всероссийской олимпиады
школьников по Основам безопасности жизнедеятельности
в 2018-2019 учебном году в Вологодской области
Теоретический тур – 10-11 классы**

05

Вопрос 7. Назовите эти ордена

Ответ:



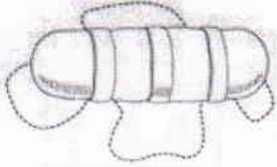
1. Орден за веру и верность.
2. _____
3. _____
4. Орден за честь и славу
5. _____

Максимальная оценка – 6 баллов; Фактическая оценка –

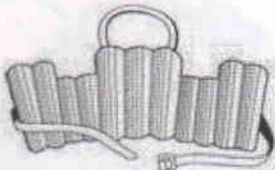
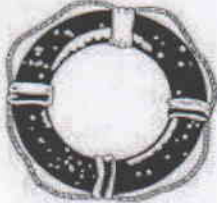
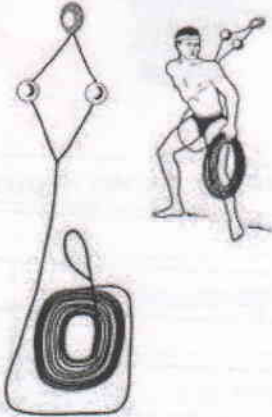

Подпись члена жюри:

15

Вопрос 8. Заполните таблицу, вписав наименования табельных спасательных средств на воде и на льду.

Графическое изображение	Наименование средства
	<p><u>людушка</u></p>

**Муниципальный этап Всероссийской олимпиады
школьников по Основам безопасности жизнедеятельности
в 2018-2019 учебном году в Вологодской области
Теоретический тур – 10-11 классы**

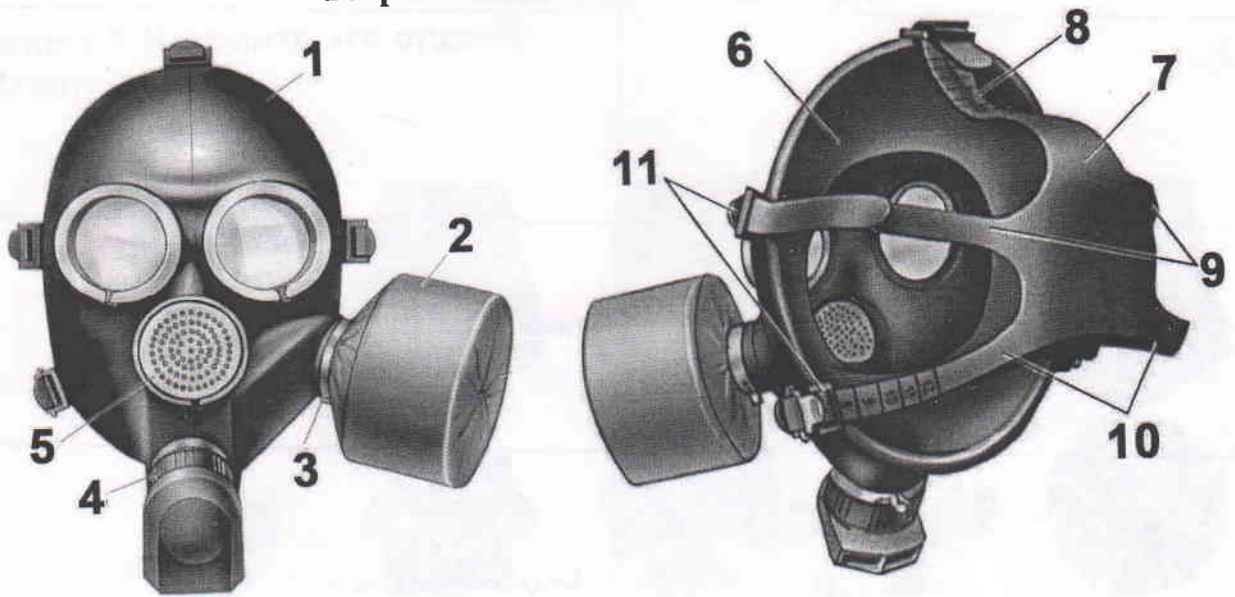
	<p align="center">—</p>
	<p>спасательный круг. 15</p>
	<p>спасательная веревка.</p>
	<p>спасательная лестница с верёвкой —</p>

Максимальная оценка – 5 баллов; Фактическая оценка –
Подпись члена жюри:

15 **Вопрос 9. Определите тип и марку изображенного на рисунке
противогаза. Укажите названия составных частей противогаза,
отмеченных цифрами.**

Ответ:

**Муниципальный этап Всероссийской олимпиады
школьников по Основам безопасности жизнедеятельности
в 2018-2019 учебном году в Вологодской области
Теоретический тур – 10-11 классы**



Тип противогаза – ~~С П~~ **С П**

Марка противогаза – ~~С П~~ **С П** **15**

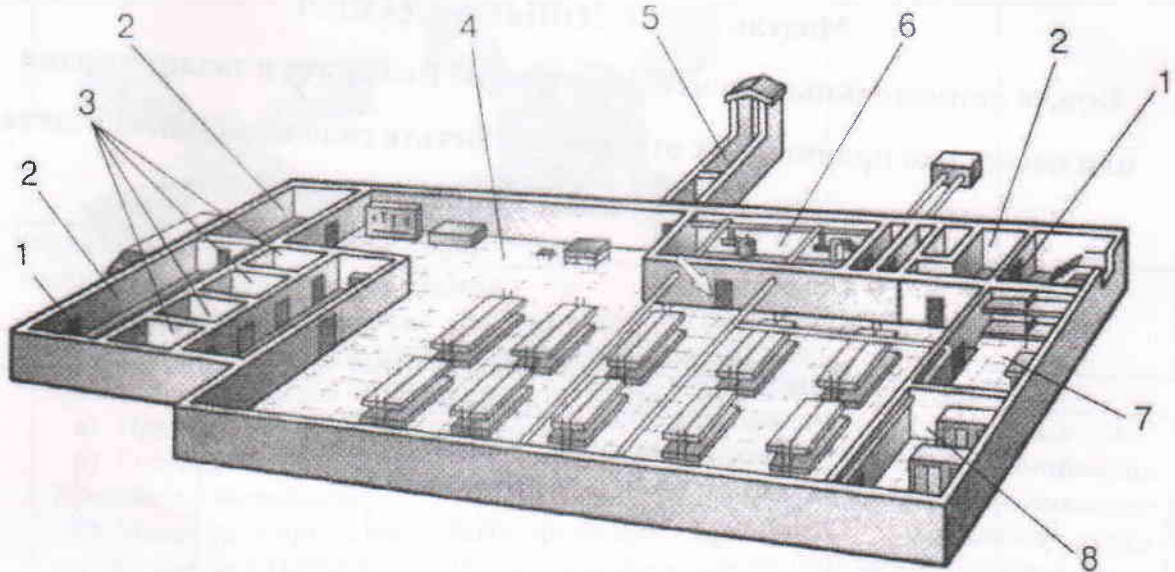
1	
2	<i>респератор</i> -
3	<i>кнопка</i> -
4	
5	
6	
7	
8	<i>ремень для закрепления на голове</i> -
9	<i>ремень для закрепления на голове</i> -
10	<i>ремень для закрепления на голове</i> -
11	

Максимальная оценка – 5 баллов; Фактическая оценка – **4**

Подпись члена жюри:

Вопрос 10. На рисунке изображен эскиз защитного сооружения ГО. Назовите тип защитного сооружения и перечислите его элементы, отмеченные цифрами.

**Муниципальный этап Всероссийской олимпиады
школьников по Основам безопасности жизнедеятельности
в 2018-2019 учебном году в Вологодской области
Теоретический тур – 10-11 классы**



Ответ:

Тип защитного сооружения – убежище 15

1	<u>кабинет отпора вход в убежище</u> -
2	-
3	<u>туалет и душевое</u> -
4	<u>кабинет обеденной зоны</u> -
5	<u>труба вытяжки воздуха</u> -
6	<u>котельня</u> -
7	<u>кабинет отдыха</u> -
8	-

Максимальная оценка – 5 баллов; Фактическая оценка – 15


Подпись члена жюри:

Общее количество баллов за письменные задания –



Подпись члена жюри:

**Муниципальный этап Всероссийской олимпиады
школьников по Основам безопасности жизнедеятельности
в 2018-2019 учебном году в Вологодской области
Теоретический тур – 10-11 классы
Модуль 2. ТЕСТОВЫЕ ЗАДАНИЯ**

**Будьте внимательны при чтении вопроса! Выберите в заданиях один
или несколько правильных ответов и отметьте галочкой, или обведите
кружком**

№	Тестовые задания	Макс. балл	Количество набранных баллов
Определите один правильный ответ			
1	<p>Что означает знак международной авиационной аварийной жестовой сигнализации «У стоящего человека правая рука вытянута вверх, левая опущена вдоль туловища»</p> <p>а) Здесь возможна посадка <input checked="" type="radio"/> б) Всё в порядке в) Утвердительный ответ (да) г) Двигаться не можем. Остаёмся на месте</p>	1	1
2	<p>При спуске с эскалатора вещи пассажира попали в гребёнку эскалатора. Какое действие следует выполнить очевидцу происшествия?</p> <p>а) быстро помочь пассажиру освободить зажатые вещи <input checked="" type="radio"/> б) постараться быстро найти сотрудника метрополитена или полиции и сообщить о происшедшем в) незамедлительно остановить эскалатор ручкой «Стоп» находящейся на балюстраде г) предупредить пассажиров, находящихся на эскалаторе, о происшедшем</p>	1	0
3	<p>На какой из картинок изображен флаг министерства обороны РФ?</p> <p>а)  б) </p>	1	1

**Муниципальный этап Всероссийской олимпиады
школьников по Основам безопасности жизнедеятельности
в 2018-2019 учебном году в Вологодской области
Теоретический тур – 10-11 классы**

			
4	<p>в) <input type="radio"/> Кто принимает решение о применении Вооруженными Силами Российской Федерации вооружения с территории Российской Федерации против находящихся за ее пределами террористов?</p> <p>а) Президент Российской Федерации</p> <p>б) Государственная Дума Федерального Собрания Российской Федерации</p> <p><input checked="" type="radio"/> в) Министр обороны Российской Федерации по согласованию с Президентом Российской Федерации</p> <p>г) Совет Федерации Федерального Собрания Российской Федерации</p>	1	0
5	<p>Укажите государя Руси, который первым начал формировать «полки нового строя»</p> <p><input checked="" type="radio"/> а) Михаил Федорович</p> <p>б) Алексей Михайлович</p> <p><input type="radio"/> в) Петр I</p> <p>г) Софья Алексеевна</p>	1	0
6	<p>Укажите смысловое обозначение данного предписывающего знака</p> <p align="center">  </p> <p>а) «Защитные перчатки снимать здесь»</p> <p>б) «Работать без защитных перчаток»</p> <p>в) «Место хранения защитных перчаток»</p> <p><input checked="" type="radio"/> г) «Работать в защитных перчатках»</p>	1	1
7	<p>Какая из ЧС относится к геофизическим?</p> <p>а) сель</p> <p>б) засуха</p> <p>в) тайфун</p> <p><input checked="" type="radio"/> г) землетрясение</p>	1	1
8	<p>Как должен поступить гражданин, имеющий законную отсрочку от призыва на военную службу, в случае получения повестки из военного комиссариата?</p> <p>а) может не прибывать в военный комиссариат в связи с наличием законной отсрочки от призыва на военную службу</p>	1	

**Муниципальный этап Всероссийской олимпиады
школьников по Основам безопасности жизнедеятельности
в 2018-2019 учебном году в Вологодской области
Теоретический тур – 10-11 классы**

	<p>б) в установленные время и место явиться в военный комиссариат</p> <p><input checked="" type="radio"/> в письменной форме незамедлительно уведомить военного комиссара о наличии у него законной отсрочки от призыва на военную службу</p> <p>г) направить в военный комиссариат любого из своих родителей (своего законного представителя)</p>			0
9	<p>Укажите отравляющее вещество нервнопаралитического действия?</p> <p>а) фосген</p> <p>б) синильная кислота</p> <p><input checked="" type="radio"/> иприт</p> <p>г) зоман</p>	1		0
10	<p>С помощью какого механизма передачи передаётся корь?</p> <p>а) фекально-оральный</p> <p><input checked="" type="radio"/> кровяной (трансмиссивный)</p> <p>в) аэрогенный (респираторный)</p> <p>г) контактный</p>	1		0
Определите все правильные ответы				
11	<p>Какие военно-административные единицы НЕ являются военными округами ВС РФ в настоящее время?</p> <p><input type="radio"/> а) Восточный военный округ</p> <p>б) Западный военный округ</p> <p><input checked="" type="radio"/> в) Дальневосточный военный округ</p> <p>г) Центральный военный округ</p> <p>д) Северный военный округ</p>	2		0
12	<p>Что обязаны граждане Российской Федерации в области пожарной безопасности?</p> <p>а) принимать участие в установлении причин пожаров в помещениях и строениях, находящихся в их собственности (пользовании)</p> <p><input checked="" type="radio"/> б) иметь в помещениях и строениях, находящихся в их собственности (пользовании), первичные средства тушения пожаров и противопожарный инвентарь</p> <p>в) тушить пожар в помещениях и строениях, находящихся в их собственности (пользовании), с использованием первичных средств пожаротушения</p> <p><input type="radio"/> г) обеспечивать себя средствами индивидуальной защиты органов дыхания</p> <p><input type="radio"/> д) оказывать содействие пожарной охране при тушении пожаров</p>	2		0
13	<p>Какие рода войск входят в состав воздушно-космических сил РФ?</p>	2		

**Муниципальный этап Всероссийской олимпиады
школьников по Основам безопасности жизнедеятельности
в 2018-2019 учебном году в Вологодской области
Теоретический тур – 10-11 классы**

	<input checked="" type="radio"/> а) военно-воздушные силы <input type="radio"/> б) десантно-штурмовые войска <input type="radio"/> в) ракетные войска и артиллерия <input checked="" type="radio"/> г) космические войска <input type="radio"/> д) мотострелковые войска		2
14	Какую ответственность несут граждане РФ за осуществление экстремистской деятельности? <input type="radio"/> а) материальную <input type="radio"/> б) гражданскую <input checked="" type="radio"/> в) уголовную <input type="radio"/> г) дисциплинарную <input checked="" type="radio"/> д) административную	2	2
15	Кто обязан оказывать первую помощь пострадавшим? <input type="radio"/> а) каждый гражданин, достигший совершеннолетия <input type="radio"/> б) учащиеся <input checked="" type="radio"/> в) работники Государственной противопожарной службы <input type="radio"/> г) сотрудники органов внутренних дел <input checked="" type="radio"/> д) свидетели происшествия	2	2
16	Какие из боевых отравляющих веществ относятся к нервнопаралитическим? <input checked="" type="radio"/> а) АС <input type="radio"/> б) СГ <input type="radio"/> в) GB <input checked="" type="radio"/> г) VX <input type="radio"/> д) СК	2	0
17	17. Укажите номера телефонов экстренных служб оператора «Мегафон» <input type="radio"/> а) 01 <input checked="" type="radio"/> б) 001 <input type="radio"/> в) 101 <input checked="" type="radio"/> г) 112 <input type="radio"/> д) 201	2	0
18	Какие из перечисленных признаков являются достоверными при определении вывиха? <input checked="" type="radio"/> а) изменение длины конечности <input type="radio"/> б) наличие отёка <input checked="" type="radio"/> в) появление боли <input checked="" type="radio"/> г) деформация в области сустава <input type="radio"/> д) присутствие синяка	2	2
19	Какие действия запрещается выполнять при ранении живота? <input checked="" type="radio"/> а) давать пить и предлагать обезболивающий препарат <input type="radio"/> б) прикладывать холод к животу	2	2

**Муниципальный этап Всероссийской олимпиады
школьников по Основам безопасности жизнедеятельности
в 2018-2019 учебном году в Вологодской области
Теоретический тур – 10-11 классы**

	в) прикрывать рану чистой салфеткой <input checked="" type="radio"/> г) извлекать из раны инородный предмет д) протирать губы влажной салфеткой		
20	Укажите явные признаки клинической смерти а) наличие пульса на сонной артерии б) отсутствие пульса на запястье <input checked="" type="radio"/> в) отсутствие дыхания г) стридорозное дыхание <input checked="" type="radio"/> д) отсутствие пульса на сонной артерии	2	2
	Общая оценка за тест	30 баллов	

Общее количество баллов за тестовые задания _____

Подпись члена жюри:

И₂ - 165

И_с - 165

Итого теор. часть - 325.